

NOMBRE I APELLIDOS \_\_\_\_\_




1. Este párrafo está escrito con tipo de letra “Times New Roman” de tamaño 13. Lo has alineado a la izquierda, has puesto una sangría izquierda (antes de texto) de 3,5 cm. *Esta frase está en cursiva.* **Esta otra frase está en negrita.** ***Y esta última está en negrita, cursiva y subrayada al mismo tiempo.*** Suele usarse para despedidas de cartas, etc.... (1 punto)

2. Este párrafo está justificado, con tipo de letra Arial de 12 puntos, con sangría especial de primera línea a 2cm. Esta frase está subrayada con estilo de subrayado punteado negrita. Esta otra frase tiene un <sup>superíndice</sup> y un <sub>subíndice</sub> además de tener efecto ~~tachado~~ y ~~doble tachado~~. También tiene un borde naranja excepto por el lado izquierdo de 2,30 pto de grosor, con sombra a 0,3cm proyectada hacia arriba y a la derecha. Y pon un suprarrayado ondulado negrita a la palabra suprarrayado. (1,5 puntos)

3. Ahora vas a realizar este ejercicio con letra Century de 10 puntos, con sangría de primera línea a 1,25 puntos, con espaciado interlineal

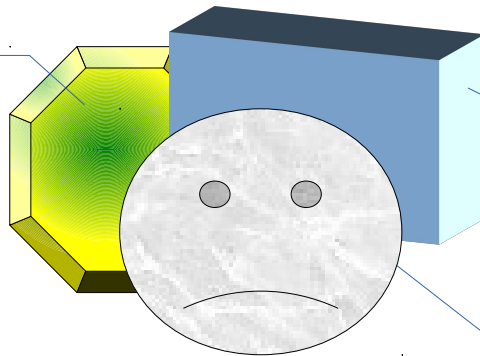
de 1,5 líneas y alineación justificada. También hemos convertido el texto en 3 columnas de distinto ancho la primera de 3,5 cm, la segunda de 5 y la tercera de 3,5 cm, con separación entre ellas de 1,5 cm y con línea de

separación de 1 punto entre todas. Pon un salto de columna después de “espaciado” interlineal y de “línea de “. (1,5 puntos)

4. Cuidado con este texto. No son columnas, repito, no son columnas. Deberéis poner este texto con letra arial de 8 puntos. Con alineación justificada y  sangría izquierda y derecha de 1 cm (sangría antes y después del texto) e interlineado doble,  también colocaremos una imagen que se encuentra en la misma carpeta que vuestro examen i se llama  birrete.png. Esta imagen la debéis insertar y realizar un ajuste de la imagen “ajustar a la página y luego contorno” . (1 punto)

5. Realiza el siguiente dibujo: (visualiza la barra de herramientas dibujo para realizar el ejercicio. Ver-->Barra de Herramientas-->Dibujo. Deben de estar en ese orden utilizando la posición de cada objeto (Octogono al fondo, Rectangulo en medio, Cara triste en primer plano). (2 puntos)

EscuadraOctogonal.  
Relleno: Gradiente nº 4.



Forma básica: rectangulo  
Activar extrusión.  
Inclinar a la izquierda tres clics de ratón  
Profundidad 1 cm

Cara Triste.  
Bitmap marmol

6. Realiza la siguiente hoja de cálculo en un libro de llibreOfficeCalc y guardalo como examen2ESOSeptiembre: (3 puntos)

Papeleria			
	Cantidad	Precio unitario	Importe
Bolígrafos	1500	0,30 €	- €
Cuadernos	450	0,90 €	- €
Tinta Pluma	625	0,48 €	- €
Plumas	100	14,12 €	- €
TOTAL	- €		- €

- El importe será el producto de cantidad y precio unitario. **(1 punto)**
- La fila TOTAL en la columna B es la suma de las cantidades y en la fila D es la suma de los importes. **(0,75 puntos)**
- Renombrar la hoja de cálculo como papelería. **(0,25 puntos)**
- Pon los bordes y los rellenos, así como el formato moneda donde corresponda **(1 punto)**